



Шифра ученика _____

Бодова: _____

ТЕСТ 6. разред

Датум: _____


Питања и задаци



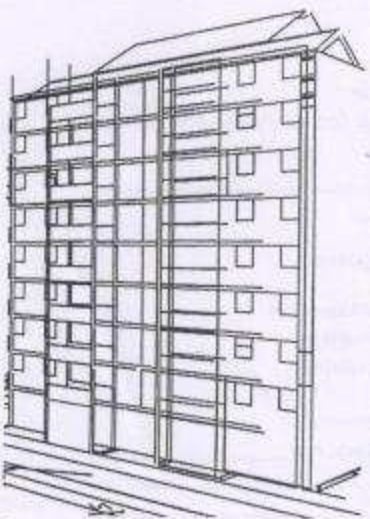
А



Б



В



Г

1. Допуни следећу реченицу.

Област која се бави пројектовањем грађевинских објеката и уређењем простора у објекту и изван објекта назива се _____.

2

2. Погледај грађевинске објекте на сликама А и Б, а затим напиши како се зову и где се налазе

- слика А: _____ у _____.

- слика Б: _____ у _____.

4

3. Заокружи тачан одговор.

На слици В приказан је манастир:

а. Студеница

б. Манасија

в. Хиландар

г. Раваница

4

4. Допуни следећу реченицу.

Стамбено-пословни део грађевинског објекта назива се _____.

3

5. Ако је исказ тачан заокружи ДА, ако није тачан НЕ.

Грађевински објекти према спратности могу да буду приземни и спратни.

ДА НЕ

2

6. Заокружи тачан одговор.

На слици Г приказан је:

а. објекат нискоградње

б. објекат високоградње

в. хидротехнички објекат

3

7. Допуни реченицу.

Грађевински објекат (зграда) на слици Г има укупно _____ спратова.

(упиши број)

3

8. Заокружи тачан одговор.

Објекти културе су:

а. банке, поште, болнице

б. позоришта, музеји, галерије

в. фабрике, радионице

1

Питања и задаци

9. Допуни следећу реченицу.

Физичко лице или установа, које обезбеђује новчана средства за пројектовање и изградњу објекта зове се _____.

2

10. Одговори на питање.

Како се зову планови којима се одређује развој и уређење насеља и простора изван насељеног места?

4

Одговор: _____ план и _____ план.

11. Ако је исказ тачан заокружи ДА, ако није тачан НЕ.

Са вертикалног пресека могу да се прочитају све димензије објекта (куће).

4

ДА НЕ

12. Допуни следећу реченицу.

На слици Д приказан је почетни прозор програма _____.

3

13. Ако је исказ тачан заокружи ДА, ако није тачан НЕ.

На слици Ђ приказане су стандардне димензије цигле изражене у см.

2

ДА НЕ

14. Заокружи тачан одговор.

На слици Е приказане су грађевинске машине:

3

а. ваљак и скрепер

б. ваљак и грејдер

в. ваљак и финишер

15. Одговори на питање.

У којим деловима куће (стана) су највећи губици топлоте?

3

Одговор: _____.

16. Заокружи тачан одговор.

На сликама Ж и З приказани су:

2

а. Ж-екстеријер, З-ентеријер

б. Ж-ентеријер, З-екстеријер

17. Допуни следећу реченицу.


Врсте кућних инсталација су: _____.

5

_____.



Д



Ђ



Е



Ж



З

КЉУЧ..... 6.разред

Одговор на питање	Начин бодовања
1. Архитектура	
2. А: пирамиде у Египту, Б: Партенон у Грчкој	(за сваки тачан одговор по 1 бод)
3. в. Хиландар	
4. <u>етажа</u>	
5. ДА	
6. б. објекат високоградње	
7. <u>8</u> спратова	
8. б. позоришта, музеји, галерије	
9. инвеститор	
10. просторни план и урбанистички план	(за сваки тачан одговор по 2 бода) редослед није важан
11. НЕ	
12. Google SketchUp	
13. ДА	
14. б. ваљак и грејдер	
15. Могући одговори су: <u>зид</u> , <u>под</u> , <u>таван</u> , <u>кров</u> , <u>прозор</u> , <u>подрум</u>	(за сваки тачан одговор по 1 бод)
16. а. Ж-екстеријер, З-ентеријер	
17. <u>електрична</u> , <u>водоводна</u> , <u>канализациона</u> , <u>грејна</u> , <u>телефонска</u>	(за сваки тачан одговор по 1 бод) редослед није важан